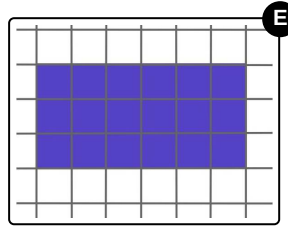
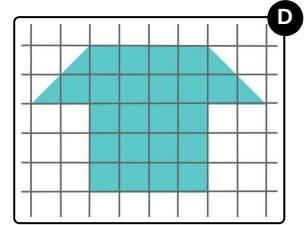
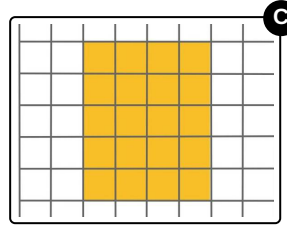
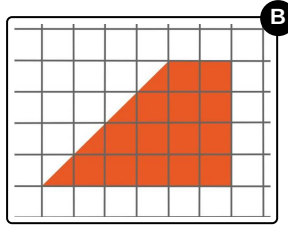
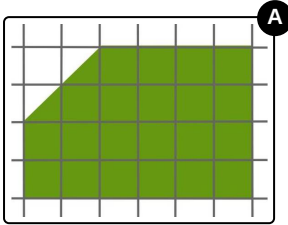




Welche der Formen ist am größten? Sortiere die Formen der Größe nach.

Bringe die Formen in die richtige Reihenfolge. Beginne mit der kleinsten Fläche.



RICHTIGE REIHENFOLGE