



Welchen Umfang und welchen Flächeninhalt haben die Figuren? Gib an.

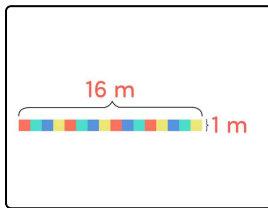
Fülle die Lücken mit den Zahlen.

Niko und seine Freunde sind heute im Mathe-Park.

Hier sollen sie drei Grasflächen untersuchen. Niko hat sie sich aufgemalt.

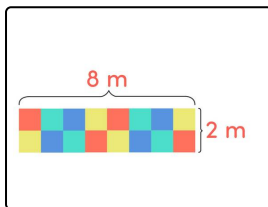
Kannst du den Freunden helfen, den Flächeninhalt und den Umfang der Flächen zu berechnen?

- 16 16 10 34 25 16 20 16



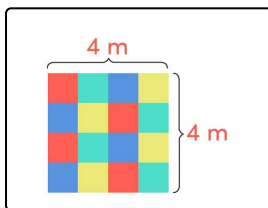
Flächeninhalt =₁ m²

Umfang =₂ m



Flächeninhalt =₃ m²

Umfang =₄ m



Flächeninhalt =₅ m²

Umfang =₆ m